



Simulazione di prova scritta di Matematica – Fisica – 28 febbraio 2019
Problema 2 - Soluzione con la calcolatrice grafica TI-Nspire CX di Texas Instruments
Soluzione a cura di: Formatori T³ Italia - Teachers Teaching with Technology



Una carica elettrica puntiforme $Q_1 = 4q$ (con q positivo) è fissata nell'origine O di un sistema di riferimento nel piano Oxy (dove x e y sono espressi in m). Una seconda carica elettrica puntiforme $Q_2 = q$ è vincolata a rimanere sulla retta r di equazione $y = 1$.

1. Supponendo che la carica Q_2 sia collocata nel punto $A(0, 1)$, provare che esiste un unico punto P del piano nel quale il campo elettrostatico generato dalle cariche Q_1 e Q_2 è nullo. Individuare la posizione del punto P e discutere se una terza carica collocata in P si trova in equilibrio elettrostatico stabile oppure instabile.

2. Verificare che, se la carica Q_2 si trova nel punto della retta r avente ascissa x , l'energia potenziale elettrostatica del sistema costituito da Q_1 e Q_2 è data da

$$U(x) = k \frac{4q^2}{\sqrt{1+x^2}}$$

dove k è una costante positiva (unità di misura: $\text{N} \cdot \text{m}^2/\text{C}^2$).

3. Studiare la funzione $U(x)$ per $x \in \mathbb{R}$, specificandone eventuali simmetrie, asintoti, massimi o minimi, flessi. Quali sono i coefficienti angolari delle tangenti nei punti di flesso?

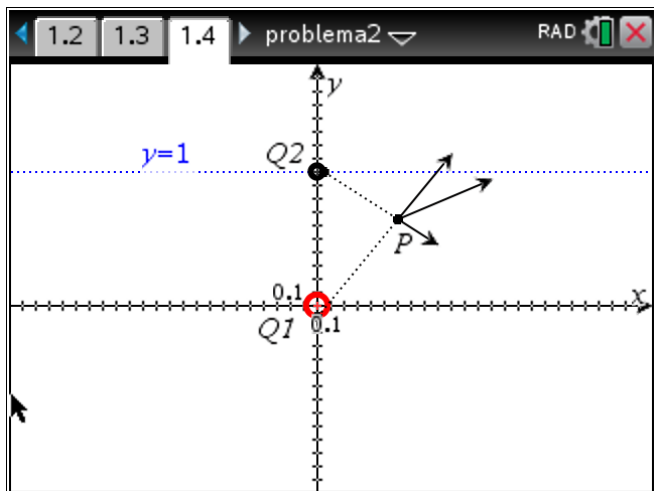
4. A partire dal grafico della funzione U , tracciare il grafico della funzione U' , specificandone le eventuali proprietà di simmetria. Determinare il valore di $\int_{-m}^m U'(x) dx$ (dove $m > 0$ indica l'ascissa del punto di minimo di U').



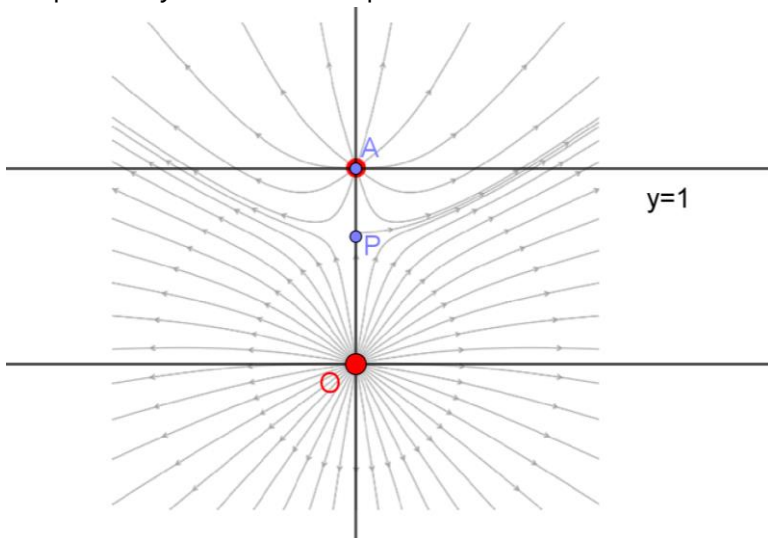


Punto 1

Il campo elettrico in un punto P del piano può essere rappresentato nel seguente modo:



Se Q_2 è posta nel punto $A(0,1)$, il campo elettrico è simmetrico rispetto all'asse y (asse passante per le due cariche generatrici del campo elettrico). Quindi il campo, nello spazio, ha una simmetria cilindrica rispetto all'asse y . Nel piano Oxy le linee del campo elettrostatico sono indicate in modo approssimato nella seguente figura.



Il campo sarà nullo in un punto sull'asse y che giace tra le due cariche. Sia $P(0; y)$ tale punto. In P campi elettrici generati da Q_1 e da Q_2 devono essere opposti. Pertanto:

$$k \frac{4q}{y^2} = k \frac{q}{(1-y)^2}.$$

Si ottiene:

$$4(1-y)^2 = y^2.$$

Si ricava $2|1-y| = |y|$.

L'unica soluzione accettabile è data da $2(1-y) = y$, che fornisce $y = \frac{2}{3}$.

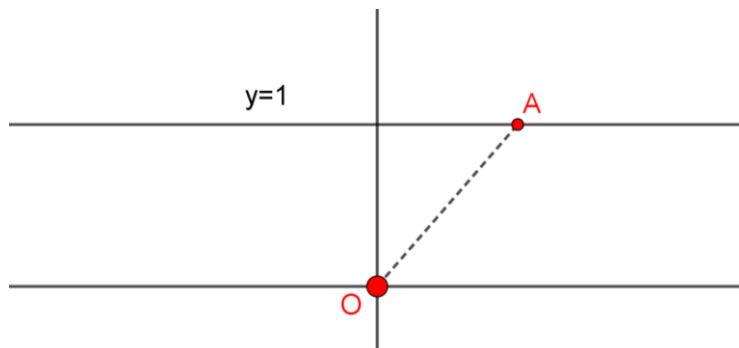
Una terza carica Q positiva (molto piccola rispetto alle cariche generatrici del campo) posta nel punto $P(0, 2/3)$ si trova in un punto di equilibrio instabile. Infatti, se la carica viene allontanata di pochissimo dal punto P , essa tende ad allontanarsi





ancora di più. La stessa situazione di equilibrio instabile si verifica se una terza carica Q negativa (molto piccola rispetto alle cariche generatrici del campo elettrico), viene posta nel punto P . Se la si allontana di pochissimo da P , tende a muoversi verso la carica più vicina e non torna nel punto P .

Punto 2



Se la carica Q_2 è vincolata a stare sulla retta di equazione $y = 1$, allora chiamiamo $A(x;1)$ le coordinate del punto. Nel piano Oxy l'energia potenziale elettrostatica del sistema formato dalle due cariche è una funzione in due variabili. A meno di una costante additiva, in un generico punto del piano possiamo scrivere:

$$U(x, y) = k \frac{Q_1 Q_2}{r}$$

dove r è la distanza tra le due cariche generatrici del campo elettrico.

Poiché $y = 1$, per ogni punto di questa retta l'energia potenziale elettrostatica è una funzione in una sola variabile:

$$U(x) = k \frac{4q^2}{\sqrt{1+x^2}}$$

Punto 3

La funzione $U(x)$, a meno di una costante moltiplicativa positiva ($4kq^2$), ha un grafico affine a quello della funzione:

$$f(x) = \frac{1}{\sqrt{1+x^2}}$$

il cui grafico è riportato di seguito.

<p>$f(x)$ è una funzione pari.</p> <p>La derivata prima è $f'(x) = -\frac{x}{\sqrt{(1+x^2)^3}}$.</p> <p>Quindi il massimo si ha per $x = 0$ e vale 1.</p> <p>La derivata seconda è $f''(x) = \frac{2x^2 - 1}{\sqrt{(1+x^2)^5}}$.</p> <p>I flessi sono pertanto nei punti $x = \pm \frac{\sqrt{2}}{2}$</p>	
--	--



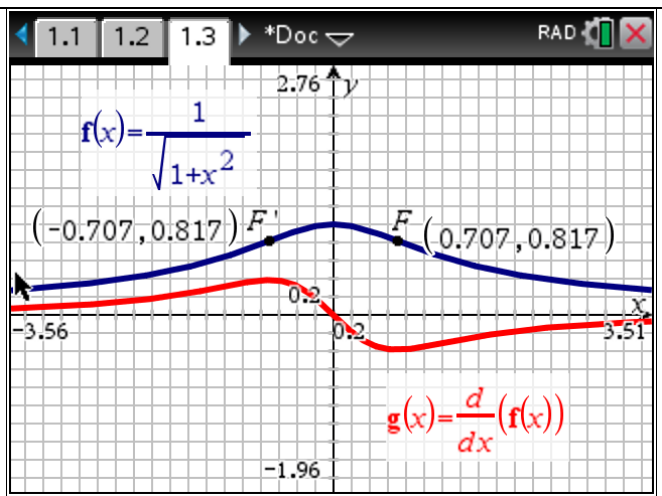


Punto 4

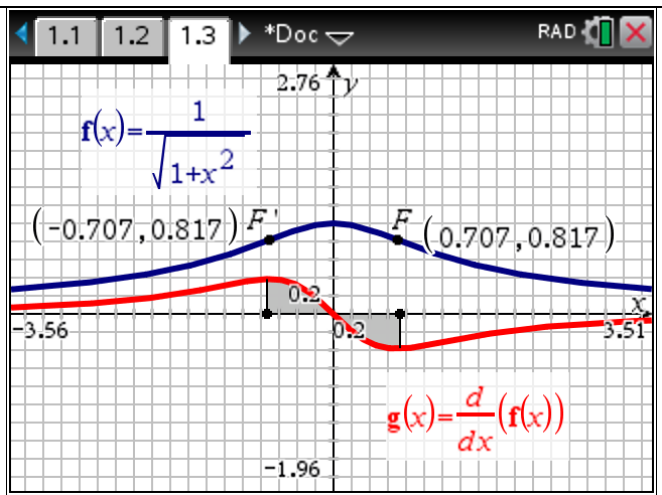
Riportiamo qui di seguito il grafico della derivata prima $U'(x)$ a meno di una costante moltiplicativa positiva.

La derivata prima è una funzione dispari (perché è la derivata di una funzione pari).

Per ottenere il grafico della derivata prima occorre scrivere

$$g(x) = \frac{d}{dx}(f(x))$$


Essendo la funzione $g(x) = \frac{d}{dx}(f(x))$ dispari, si ha: $\int_{-m}^m g(x) dx = 0$ e questo è valido in generale per ogni intervallo simmetrico rispetto all'origine, non solo per $m = \frac{\sqrt{2}}{2}$.



Giudizio sul problema

Il problema ha un livello di difficoltà alto nella parte iniziale. Si tratta di un problema che parte dalla fisica (i primi due punti sono di elettrostatica) e poi arriva alla matematica. È quindi inizialmente contestualizzato. I temi trattati sono presenti sia nel QdR di Fisica che in quello di Matematica.

Per la risoluzione di questo problema la calcolatrice grafica può essere utile per i punti 3 e 4 perché si possono tracciare immediatamente i grafici richiesti. Occorre comunque motivare i grafici ottenuti e sviluppare i calcoli simbolici richiesti.

